

Проверочная работа
по предмету «ОКРУЖАЮЩИЙ МИР»

5 класс
(по материалам 4 класса)
Вариант 2

Инструкция по выполнению работы

На выполнение работы по учебному предмету «Окружающий мир» даётся 45 минут. Работа состоит из двух частей и включает в себя 10 заданий.

Ответы на задания запиши в поле ответа в тексте работы.

При выполнении работы не разрешается пользоваться учебником, рабочими тетрадями и другим справочным материалом.

Советуем выполнять задания в том порядке, в котором они даны. Для экономии времени пропускай задание, которое не удаётся выполнить сразу, и переходи к следующему. Постарайся выполнить как можно больше заданий.

Желаем успеха!

Таблица для внесения баллов участника

Номер задания	1	2	3.1	3.2	3.3	4	5	6.1	6.2	6.3	7.1	7.2	8 K1	8 K2	8 K3	9(1)	9(2)	9(3)
Баллы																		

10.1	10.2 K1	10.2 K2	10.2 K3	Сумма баллов	Отметка за работу

Часть 1

1

Рассмотри рисунок, на котором изображён спортивный магазин. Ключка изготовлена из дерева. Она отмечена на рисунке стрелкой с соответствующей надписью.

Покажи на рисунке стрелкой любой предмет (любую деталь) из резины и любой предмет (любую деталь) из металла. Подпиши название соответствующего материала рядом с каждой стрелкой.



2

На интернет-сайтах погоды можно встретить подобные таблицы. Изучи прогноз погоды на трое суток по приведённой ниже таблице.

	Вторник, 4 июня				Среда, 5 июня				Четверг, 6 июня			
	Ночь	Утро	День	Вечер	Ночь	Утро	День	Вечер	Ночь	Утро	День	Вечер
Облачность и атмосферные осадки												
Температура воздуха, °C	18	18	24	19	17	18	26	19	17	18	25	16
Направление ветра												
	ЮВ	ЮВ	В	В	ЮВ	ЮВ	Ю	Ю	СЗ	З	СЗ	З
Влажность воздуха, %	79	76	68	74	80	77	74	84	89	88	87	81

Выбери верные утверждения об ожидаемой погоде на эти трое суток и запиши в строку ответа их номера.

- 1) В течение трёх суток дожди ожидаются только в четверг.
- 2) В среду в течение суток температура воздуха не опустится ниже 17 °C.
- 3) В четверг в течение суток будет дуть юго-западный ветер.
- 4) Во вторник влажность воздуха будет наибольшей за все трое суток.

Ответ: _____

3

Рассмотри карту России. На ней буквами А и Б отмечены две природные зоны.



3.1. Запиши название каждой природной зоны в отведённое для этого поле.

Название природной зоны А:

Название природной зоны Б:

3.2. На следующей странице представлены фотографии *лемминга*, *морозики*, *саксаула* и *черепахи*. Запиши название каждого из этих животных и растений рядом с номером фотографии, на которой оно изображено.

1) _____ 2) _____

3) _____ 4) _____

3.3. Какие из этих животных обитают и какие растения произрастают в естественной среде (не в зоопарке и не в ботаническом саду) на территории природной зоны А, а какие – природной зоны Б? Запиши **номера** фотографий с изображением этих животных и растений в таблицу под соответствующими буквами.

Ответ:

Природная зона	А	Б
Животные и растения		




1)



2)



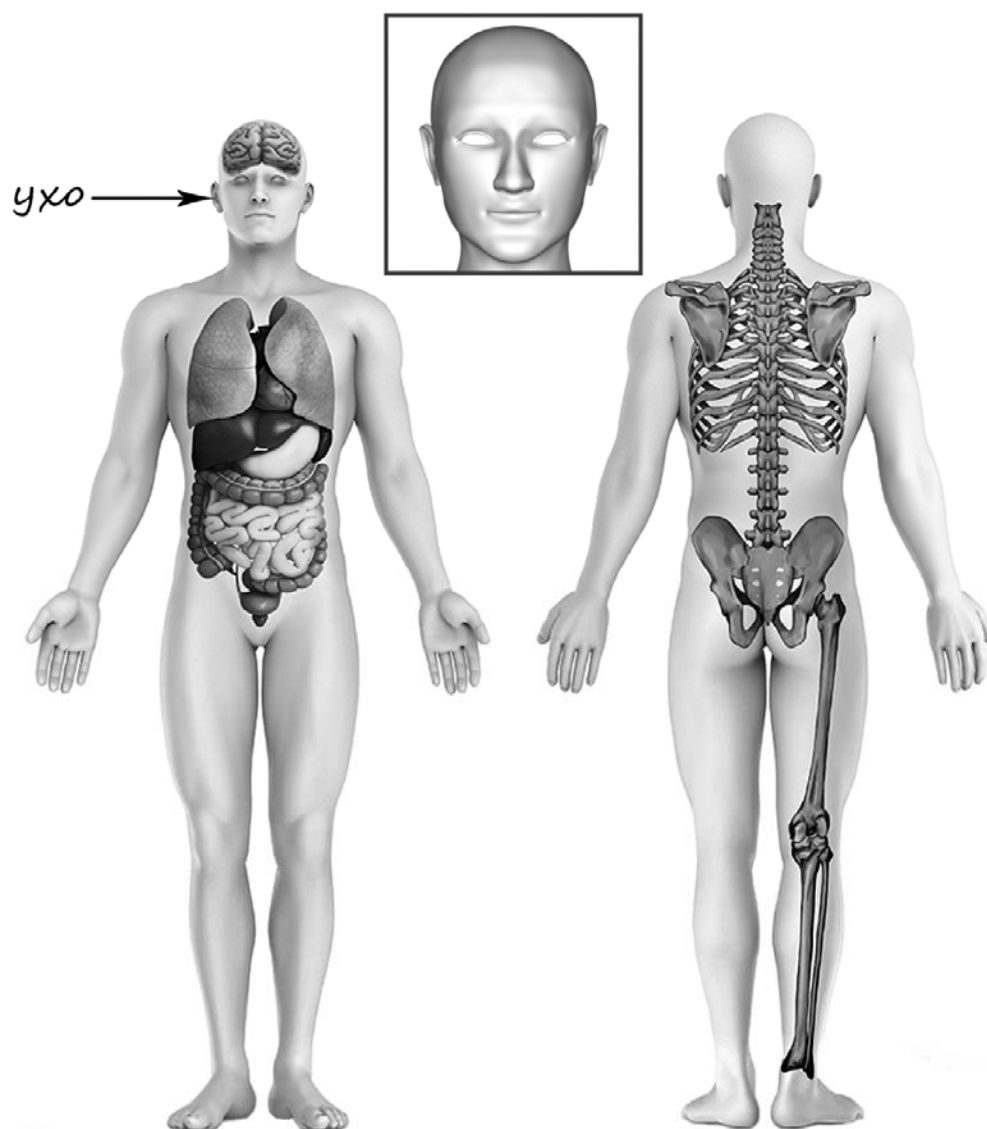
3)



4)

4

Рассмотри изображение человека. Покажи стрелками и подпиши *темя*, *позвоночник* и *голень* человека так, как показано на примере.



5

Составь два правила сохранения здоровья человека из приведённых частей фраз: для этого к каждой позиции первого столбца подбери соответствующую позицию из второго столбца.

Начало фразы**Продолжение фразы**

- А) При небольшом обморожении
рекомендуется
- Б) При небольшом ожоге кожи
рекомендуется

- 1) обливать поражённую часть тела
холодной водой.
- 2) наложить на поражённую часть тела
согревающую шерстяную повязку.
- 3) обработать поражённую часть тела
йодом.

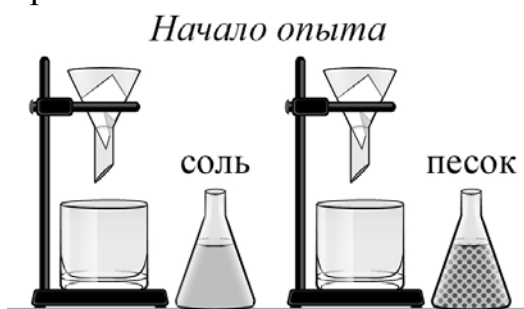
Запиши в таблицу выбранные цифры под соответствующими буквами.

Ответ:

Начало фразы	А	Б
Продолжение фразы		

6

Алина решила на опытах выяснить, какие вещества можно отфильтровать из воды с помощью обычной фильтровальной бумаги. Для одного из таких опытов она изготовила два фильтра из бумаги одинаковой толщины, положила их в воронки и вставила воронки в стаканы. Затем она взяла две колбы, налила в них одинаковое количество холодной воды. В одну колбу она насыпала чайную ложку соли, а в другую – чайную ложку речного песка, тщательно взболтала и вылила содержимое в воронки с фильтрами. В стаканах, в которые были вставлены воронки с фильтрами, вода оказалась прозрачной. При этом фильтр, через который Алина вылила воду с солью, был чистым, а на другом фильтре остался песок.



6.1. Сравни условия фильтрации веществ в описанном опыте. Подчеркни в каждой строке одно из выделенных слов.

Исследуемые вещества:

одинаковые / различные

Толщина фильтров:

одинаковая / различная

Температура воды в колбах:

одинаковая / различная

6.2. По результатам опыта сделай вывод о том, какое из исследуемых в опыте веществ можно отфильтровать с помощью обычной фильтровальной бумаги, а какое не фильтруется.

Ответ: _____

6.3. Если бы Алина захотела выяснить, влияет ли температура воды на фильтрацию веществ, с помощью какого опыта она могла бы это сделать? Опиши этот опыт.

Ответ: _____

Часть 2

При выполнении заданий 7–10 последовательно отвечай на каждый из представленных вопросов. Ответы записывай чётко и разборчиво, соблюдая нормы речи.

7

Рассмотри знаки, изображённые на рисунках, и ответь на вопросы.

А



Б



В



7.1. Какой из этих знаков относится к знакам безопасности на воде?

Ответ.

☐

Какое правило отражает этот знак?

Ответ: _____

7.2. Какие правила отражают два других знака? Запиши ответы в таблицу.

ЗНАК	ПРАВИЛО
<input type="checkbox"/>	
<input type="checkbox"/>	

8

На фотографиях изображены люди разных профессий за работой. Выбери ОДНУ из фотографий и запиши букву, под которой она приведена.

Представитель какой профессии изображён на выбранной фотографии? Какую работу выполняют люди этой профессии? Чем работа людей этой профессии полезна обществу?

А)



Б)



В)



Выбранная фотография:

☐

Ответ:

9

28 декабря отмечается Международный день кино. Это праздник всех создателей кинофильмов: режиссёров, операторов, актёров.

2020

Январь							Февраль							Март							Апрель						
ПН	ВТ	СР	ЧТ	ПТ	СБ	ВС	ПН	ВТ	СР	ЧТ	ПТ	СБ	ВС	ПН	ВТ	СР	ЧТ	ПТ	СБ	ВС	ПН	ВТ	СР	ЧТ	ПТ	СБ	ВС
		1	2	3	4	5						1	2							1			1	2	3	4	5
6	7	8	9	10	11	12	3	4	5	6	7	8	9	2	3	4	5	6	7	8	6	7	8	9	10	11	12
13	14	15	16	17	18	19	10	11	12	13	14	15	16	9	10	11	12	13	14	15	13	14	15	16	17	18	19
20	21	22	23	24	25	26	17	18	19	20	21	22	23	16	17	18	19	20	21	22	20	21	22	23	24	25	26
27	28	29	30	31			24	25	26	27	28	29		23	24	25	26	27	28	29	27	28	29	30			
														30	31												
Май							Июнь							Июль							Август						
ПН	ВТ	СР	ЧТ	ПТ	СБ	ВС	ПН	ВТ	СР	ЧТ	ПТ	СБ	ВС	ПН	ВТ	СР	ЧТ	ПТ	СБ	ВС	ПН	ВТ	СР	ЧТ	ПТ	СБ	ВС
				1	2	3	1	2	3	4	5	6	7			1	2	3	4	5					1	2	
4	5	6	7	8	9	10	8	9	10	11	12	13	14	6	7	8	9	10	11	12	3	4	5	6	7	8	9
11	12	13	14	15	16	17	15	16	17	18	19	20	21	13	14	15	16	17	18	19	10	11	12	13	14	15	16
18	19	20	21	22	23	24	22	23	24	25	26	27	28	20	21	22	23	24	25	26	17	18	19	20	21	22	23
25	26	27	28	29	30	31	29	30						27	28	29	30	31			24	25	26	27	28	29	30
																					31						
Сентябрь							Октябрь							Ноябрь							Декабрь						
ПН	ВТ	СР	ЧТ	ПТ	СБ	ВС	ПН	ВТ	СР	ЧТ	ПТ	СБ	ВС	ПН	ВТ	СР	ЧТ	ПТ	СБ	ВС	ПН	ВТ	СР	ЧТ	ПТ	СБ	ВС
	1	2	3	4	5	6				1	2	3	4						1			1	2	3	4	5	6
7	8	9	10	11	12	13	5	6	7	8	9	10	11	2	3	4	5	6	7	8	7	8	9	10	11	12	13
14	15	16	17	18	19	20	12	13	14	15	16	17	18	9	10	11	12	13	14	15	14	15	16	17	18	19	20
21	22	23	24	25	26	27	19	20	21	22	23	24	25	16	17	18	19	20	21	22	21	22	23	24	25	26	27
28	29	30					26	27	28	29	30	31		23	24	25	26	27	28	29	28	29	30	31			
														30													

Обведи эту дату в календаре.

Запиши, на какой день недели приходится эта дата в 2020 году.

Ответ: _____

Как ты думаешь, какую роль играет кино в жизни каждого современного человека? (Напиши ответ объёмом до пяти предложений.)

Ответ: _____

10

10.1. Запиши название региона: республики, или области, или края, или автономного округа, в котором ты живёшь.

Ответ: _____

Как называется главный город твоего региона?

Ответ: _____

10.2. Что изображено на гербе твоего региона?

Ответ: _____

Какие природные или культурно-исторические достопримечательности есть в твоём регионе (укажи не менее двух)? Напиши об одной из этих достопримечательностей.

Ответ: _____